

Fahrauftrag – CM-Lauf 12.03.2005

Fahrstrecke insgesamt : 118,0 km Fahrzeit insgesamt : 240 Min.

Gefahren wird nach StVO und auf eigenes Risiko.

Leider ist das Kartenmaterial für diese Fahraufträge in die Waschmaschine gekommen. Es fehlt also vieles und einige Farben sind verfälscht. Sie müssen sich darauf einstellen und die Natur einbeziehen.

Als DK gelten in allen Fahraufträgen, jeweils vom OE bis OA die Nummern des ersten nummerierten Grundstückes nach jedem Rechtsabbiegen; desgleichen jeweils vom OA bis OE die Ziffer des ersten auskilometrierten Punktes (keine Hinweisschilder) nach jedem Rechtsabbiegen. Zusätzliche DK's aus den Fahraufträgen sind in der richtigen Reihenfolge einzuordnen.

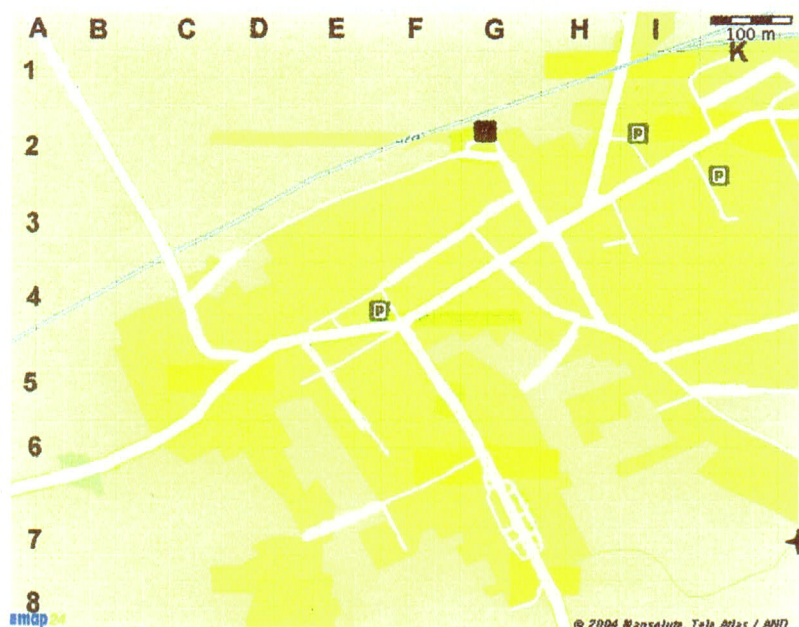
Straßensperrungen sind nach eigenem Kartenmaterial so zu umfahren, dass der erste nicht mehr gesperrte Punkt aus dem Fahrauftrag erreicht wird. DK's auf gesperrten Straßenabschnitten werden neutralisiert.

OE = Ortseingangsschild / OA = Ortsausgangsschild

Fahrauftrag 1

Fahrstrecke : 78,0 km Fahrzeit : 156 Min.

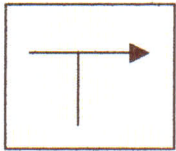
Verlassen Sie Glienicke auf schnellstem Wege und auf einer B-Straße in Richtung Norden. Durchfahren Sie nicht die Ortslagen Birkenwerder, Borgsdorf, Oranienburg und Sachsenhausen. Benutzen Sie weiterhin diese B-Straße bis Sie auf ein Denkmal stoßen, welches anlässlich eines Gedächtnisses errichtet wurde (Jahreszahl als DK). Wann starb August Pritzkow (Jahreszahl als DK)? Notieren Sie Ihren genauen Tachostand (keine DK!). Weiter der Hauptstraße folgen bis Sie zu dem **Ortsplan 1** gelangen.



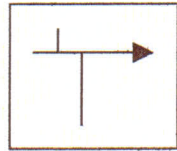
Ortsplan 1

Durchfahren Sie den Ort nach folgenden Angaben:

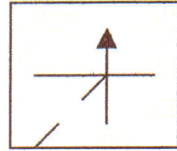
Fahren Sie vom OE in Richtung **D** und **C**, bis Sie in Richtung **K** weiterfahren können.
Nach **G 3** weiter nach **BBZ 1** und **BBZ 2**



1



2

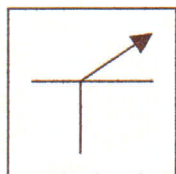


8

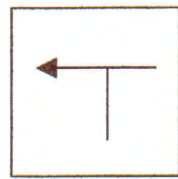
Nach **BBZ 2** fahren Sie in Richtung **D** -> bis **BBZ 3**. Weiter mit **BBZ 2** zu **H 3**. Weiter **H** ↑ **I** in Richtung **ADE** der Karte 1



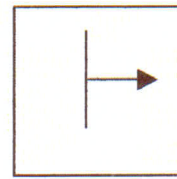
3



7



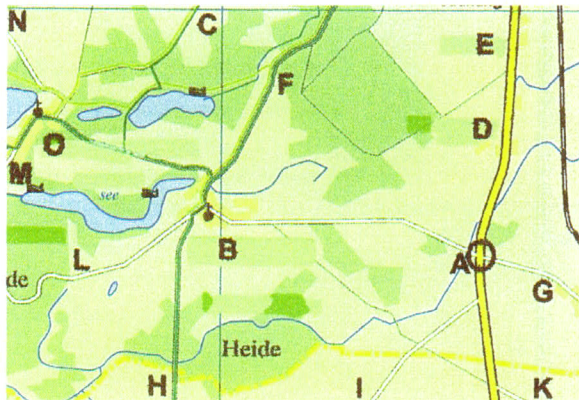
9



12

Weiter **H** ↑ **I** in Richtung **ADE** der Karte 1.

13,4 km nach dem Gedächtnis-Denkmal erreichen Sie Punkt **A** in der Karte 1.

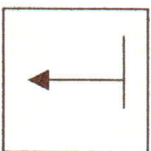


Karte 1

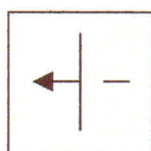
Fahren Sie **A – B**, Buslinie 844 und Hauptverkehrsstraße folgend bis zu einem markanten Gebäude (links).

Wieviel Fenster sehen Sie an der Frontseite des Hauptgebäudes (**DK**)?

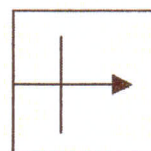
Weiter nach **BBZ 4** mit Hauptstraße.



4



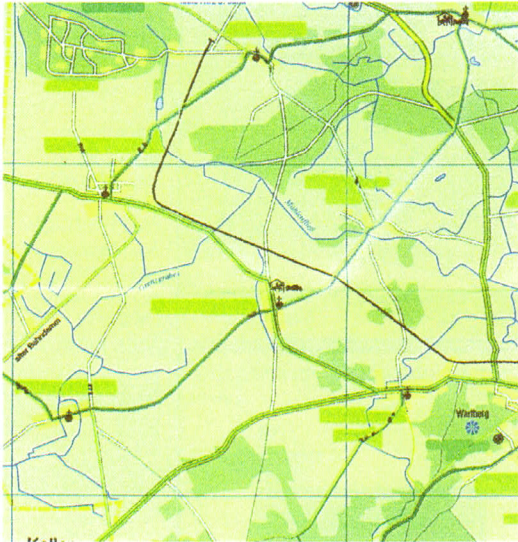
5



6

Im Ort **O** weiter der Buslinie 844 und Hauptstraße folgen. 1. Haus nach der Kirche- Haus-Nr. als **DK**. Vom **OA** des Ortes **O** bis zum **OE** des nächsten Ortes

1,8 km. Weiter nach **BBZ 1**, aber mit ∇ 800 m bis zum **BBZ 5**.



Karte 2

Als Hilfe kann auch die Karte 2 für die folgende Fahrtstrecke bis OE nach BBZ 1 mit ∇ ,dienen.

BBZ 5 - OE : 1,8 km

OE - OA : 0,3 km (nach Kreuzung 1.Haus rechts Haus-Nr.als **DK**)

OA - OE : 3,3 km (auf der Strecke Bushaltestelle der Buslinie 835, Name der Bushaltestelle als **DK**)

BBZ 6, aber mit ∇

BBZ 4

Hauptstraße folgen bis OA

OA – OE : 2,6 km

BBZ 1, aber mit ∇

Buslinie 836 und Hauptstraße folgen

OA – OE : 2,8 km .dazwischen BBZ 7, aber mit ∇

Nach OE Hauptstraße folgen (welche Buslinien halten an der Bushaltestelle Kirche?)**DK**. An der Kirche weiter mit BBZ 6. Hinweisauf eine „Berliner Straße“. Welche ? **DK**. Dieser folgen.

OA – OE : 2,5 km , dazwischen BBZ 8 und 2 km Straßenschäden.

Nach OE Hauptstraße und Buslinie 836 folgen, aber nicht zur Kläranlage.

OA - BBZ 1 mit ∇ : 1,3 km

BBZ 1 mit ∇- OE : 2,2 km

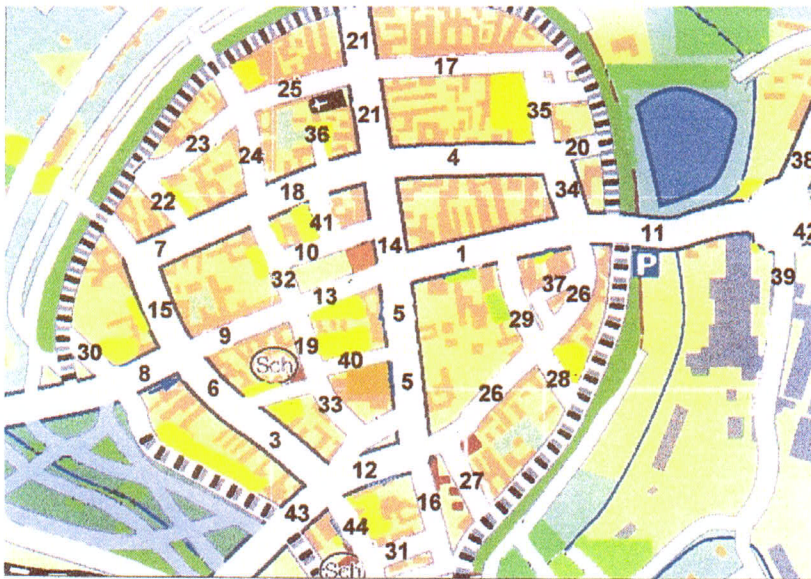
Hier endet Fahrautrag 1 !

Fahrauftrag 2

Fahrstrecke : 40 km Fahrzeit : 84 Min.

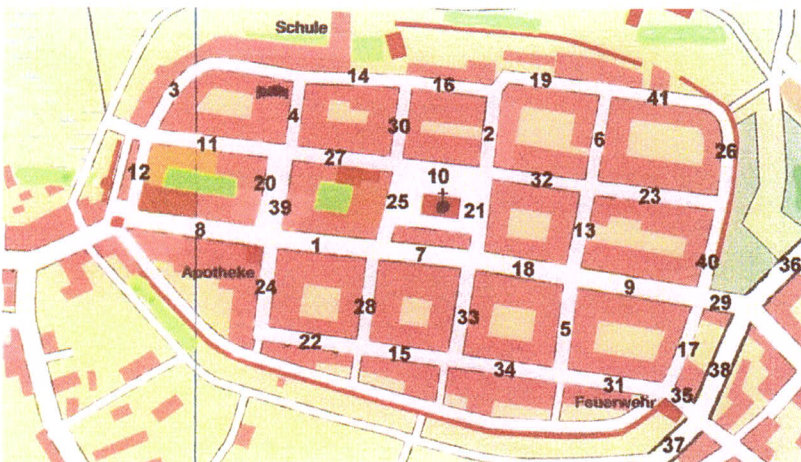
Nach dem OE aus Fahrauftrag 1 zum BBZ 9, aber mit Stop
 Richtung Zentrum bis Sie mit 30 hoch 3,8 weiterfahren können. Ab hier nach
 Ortsdurchfahrtsplan. Leider weiß ich nicht mehr welches der richtige Plan ist.
 Sie müssen aber den Ortskern entweder nach Plan X, oder Plan Y, auf den
 nummerierten Straßenabschnitten in der angegebenen Reihenfolge durch-
 fahren. Wann stand hier im Ort eine Leiche? Als DK in deren Reihenfolge ein-
 ordnen

8 – 9 – 13 – 5 – 40 – 19 – 9 – 6 – 3 – 12 – 26 – 11



Plan X ?

**12 – 11 – 20 – 39 – 4 – 14 – 30 – 25 – 7 – 33 – 34 – 5 – 18 – 7 –
 25 – 30 – 16 – 19 – 6 – 23 – 40 – 29**



Plan Y ?

Folgen sie dem Hinweisschild „Nordost“ mit der Hauptstraße über einen Bahnübergang bis zum OA.

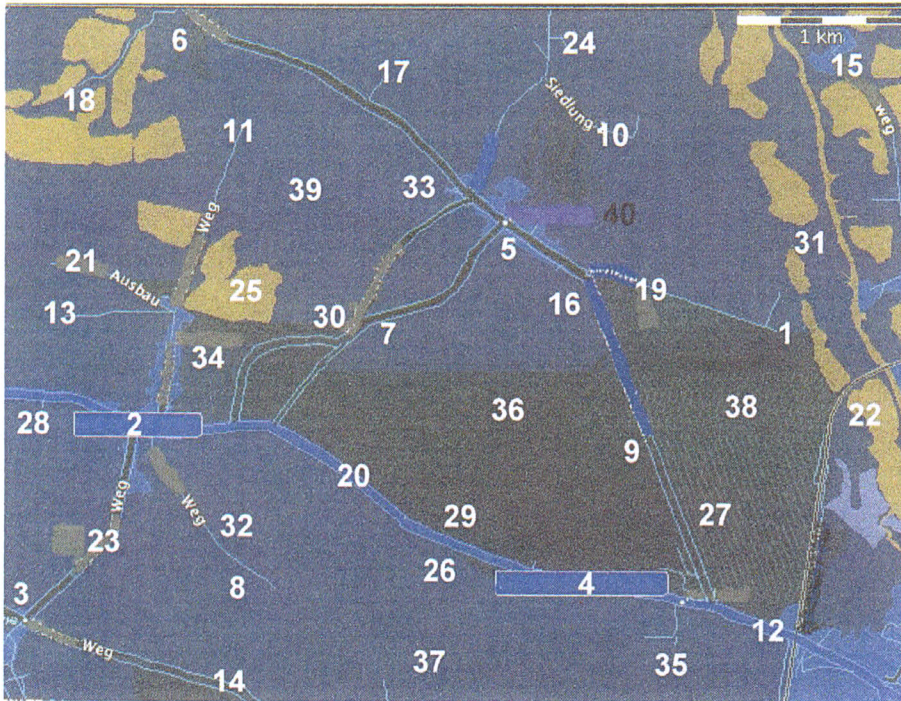
OA – OE nächster Ort : 4,7 km

Hauptstraße bis zum OA

OA – Möglichkeit der Weiterfahrt nach **Karte W** : 700 m

Leider liegt die **Karte W** nur als Negativ vor. Durchfahren Sie diese nach folgenden Angaben :

Zwischen 7 und 30, ein Achtel von 40, die Hälfte von 32 , zwischen 3x3 und 3x9 , 4x3



Karte W

Was befindet sich bei **einem Achtel von 40** an einer Bushaltestelle unter einem großen Storchennest auf einem Mast ? **DK.**

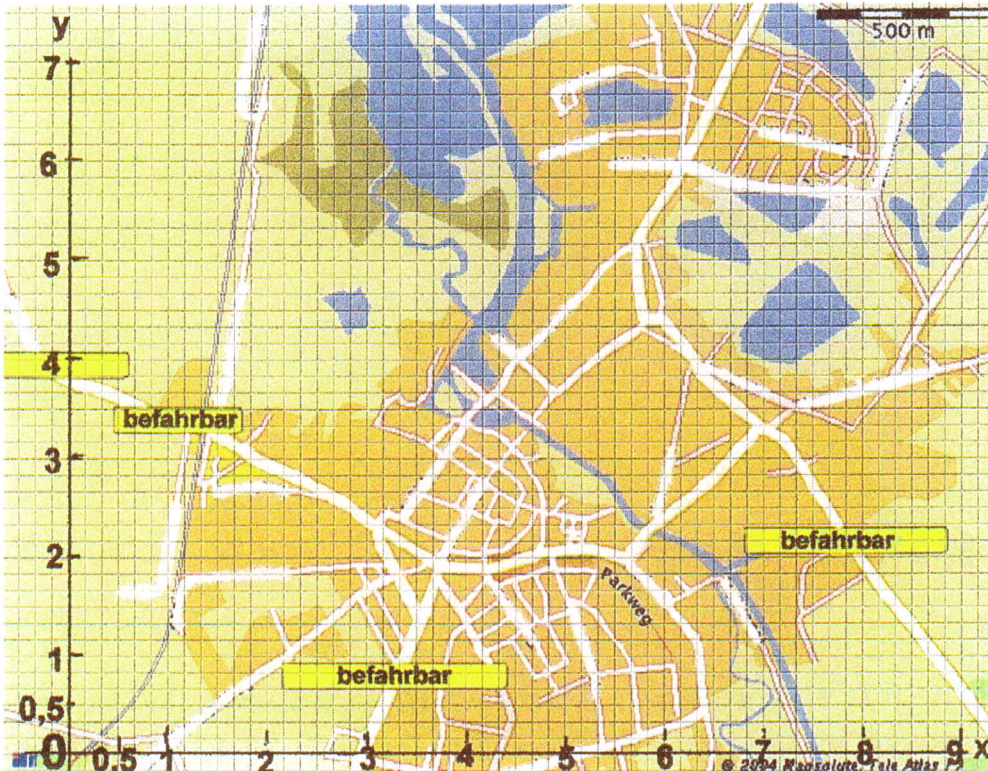
Welche Ziffern sind gemeinsam an der folgenden Kirche angebracht ? **DK.**

OA – OE : 2,5 km

Den nach **4x3** folgenden Ort durchfahren Sie nach dem Ortsdurchfahrtsplan **V** und den angegebenen Koordinaten.

- x 1 / y 3,5
- x 2 / y 3
- x 3,0 / y 2,5
- x 3,5 / y 1,5
- x 4 / y 1,83
- x 5,5 / y 2
- x 7 / y 3,34
- x 6 / y 4,34
- x 6,5 / y 6,5

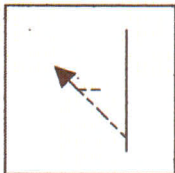
Nach angegebener Maßeinteilung, nicht in mm.



Plan V

Bei den Koordinaten $x 4 | y 1,83$ befindet sich eine Bushaltestelle für die Buslinien 832,833,838,842,843 und 850. Welche Hausnummer hat das Haus, vor dem sich diese Bushaltestelle befindet? **DK.**

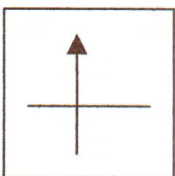
Vom OE bis zum OA dieses Ortes sind Sie 5,6 km gefahren. Nach dem OA weiter mit BBZ 12 und danach mit BBZ 10. OA bis BBZ 12 : 2,9 km. BBZ 12 bis BBZ 10 : 2,3 km.



10 (blauem Straßenschild, darauf Wort mit 12 Buchstaben, folgen)

Nach Abbiegen E-Mast Nr.48. Nach welchem E-Mast befindet sich das nächste OE? **DK.**

Nr. des ersten Grundstückes nach OE? **DK.** Ab OA **schlechte Wegstrecke !!** Weg ohne abzubiegen folgen, nicht dem Reitweg folgen. Die Ziffern 3352 und 3351, sowie später 3349 und 3229 liegen links Ihrer Fahrtroute. Wenn Sie 5,1 km nach BBZ 10 auf eine asphaltierte Straße stoßen, dieser nach links folgen. Nach 3,0 km OE.. Hauptstraße folgen bis BBZ 11, aber mit Kirche.



Wann wurde das erste Haus nach BBZ 11 erbaut? **DK.**

OA – OE : 1,8 km

Hauptstraße nach OE folgen und nach 30 km/h rechts abbiegen. Ohne abzubiegen der Asphaltstraße folgen bis zum Ziel, einem Ferienhof, links !!!

Fahrerkarte CM-Lauf 12.03.2005

Name : Auswertung

Fahrauftrag 1 und 2

**Zeit/Start:
Minuten : 240**

Zeit/Ziel:

Tacho/Start:

**Tacho/Ziel:
Km: 118**

DK 1	1	Glienicker Spitze	DK 26	1	Grs.Schinkelpl.1.H.re
DK 2	1	Hndf.1.H.re.n.KV	DK 27	25.7.1810	Schinkelpl
DK 3	0,0	Beginn Auff.BAB	DK 28	40	Klosterstr.1.H.re
DK 4	6,5	BAB nach Auffahrt	DK 29	1	Schulstr.1.H.re
DK 5	745/0,004	AK/B96	DK 30	1	Rosenstr.1.H.re
DK 6	800/0,633	nach KV B96	DK 31	27	Kirchplatz 1.H.re
DK 7	7	Teschendorf 1.H.re.	DK 32	45	Klosterstr.1.H.re
DK 8	1909	Denkm.Teschend	DK 33	14	Hirtenstr.1.H.re
DK 9	1866	Pritzkow dito	DK 34	1	Kreuzstr.1.H.re
DK 10	3	Löwenb.Muchstr.1.H.re	DK 35	1	Mauerstr.1.H.re
DK 11	22	dito Haupt 1.H.re	DK 36	4	Grs.1.H.re n.KV
DK 12	23	dito Haupt 1.H.re	DK 37	67	Mildenberg 1.H.re
DK 13	7	Meseberg 1.H.re	DK 38	Feuerwehr	Mildenberg
DK 14	38	dito Schloßfenster	DK 39	1766/1980	Wetterfahne
DK 15	9	ABaumgart.1.H.n.Kirc	DK 40	5 G	Zehdenick 1.H.re
DK 16	19	Richtung Keller 1.H	DK 41	27	dito Zetkinstr.1.H.re.
DK 17	27	Rönnebeck 1.H.n.Krz	DK 42	21	dito,gleich nach DK 38
DK 18	Ausbau	nach S.dorf	DK 43	3	Krztg.Ri Templin1.H.re
DK 19	15	Schulzendorf 1.H.re	DK 44	64	OE Vogelsang
DK 20	14	dito 1.H.re vor OA	DK 45	2	dito(Deutschboden)
DK 21	17	Wolfsruh 1.H.re	DK 46	1903	Storkow n.Krztg
DK 22	836,851,852	Wolfsruh	DK 47	6	erst kurz vor Ziel 1.H.re
DK 23	Kuhdamm	Neulögow			
DK 24	3	dito am Stall n. DK 20.			
					Punkte/ DK :
					Punkte/Zeit :
					Punkte/km :
DK 25	44	Grs.Baustr.1.H.re			Platz :

**Bis DK 24 Fahrauftrag 1
Ab DK 25 Fahrauftrag 2**